

TECNOLOGÍA

PRÁCTICAS SISTEMA DIÉDRICO 3º ESO

ALUMNO, Nombre: _____

nº: _____

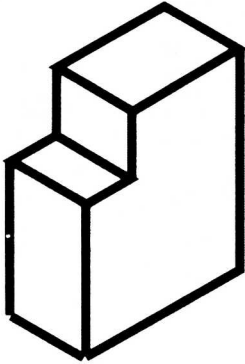
CURSO: _____

Fecha: _____

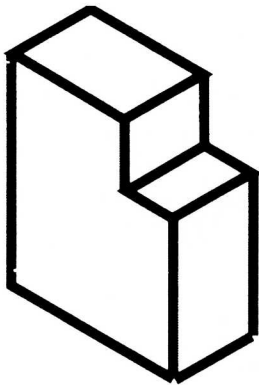
DIBUJAR: ALZADO PLANTA Y PERFIL de las siguientes figuras.**ACOTAR.**

← ALZADO

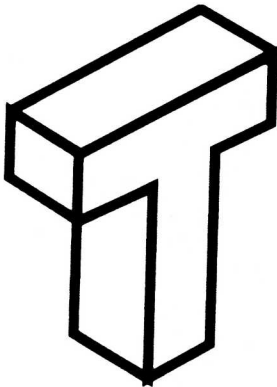
1



2



3



TECNOLOGÍA

PRÁCTICAS SISTEMA DIÉDRICO 3º ESO

ALUMNO, Nombre: _____

nº: _____

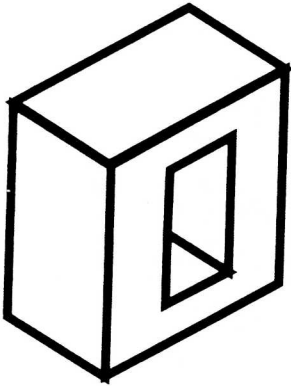
CURSO: _____

Fecha: _____

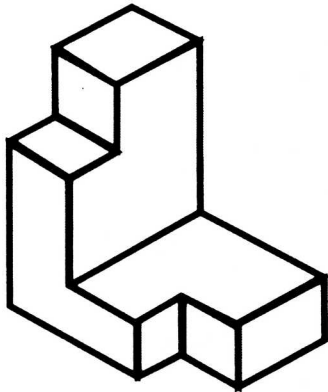
DIBUJAR: ALZADO PLANTA Y PERFIL de las siguientes figuras.**ACOTAR.**

← ALZADO

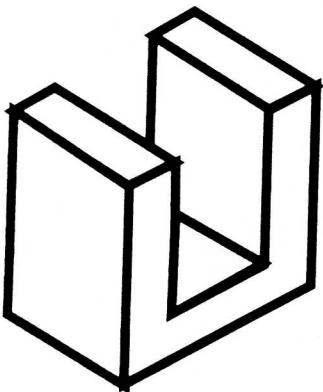
4



5



6



TECNOLOGÍA

PRÁCTICAS SISTEMA DIÉDRICO 3º ESO

ALUMNO, Nombre: _____

nº: _____

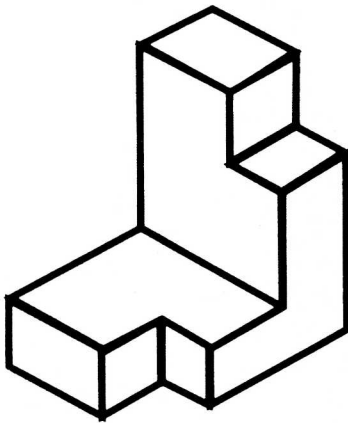
CURSO: _____

Fecha: _____

DIBUJAR: ALZADO PLANTA Y PERFIL de las siguientes figuras.**ACOTAR.**



7



8

